


## 2020 年暑期二年级第九练

1. 一根绳子剪去一半，再剪去余下的一半，还剩 3 分米，这根绳子原来长多少分米？（ ）

- A. 10                      B. 12                      C. 9                      D. 13

2. 星星草上依次写着 1 至 8 的自然数，每次同时取出两株带有数字的星星草，要使它们的和等于 9，一共有多少种不同的取法？（ ）



- A. 4 种                      B. 3 种                      C. 5 种                      D. 8 种

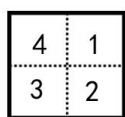
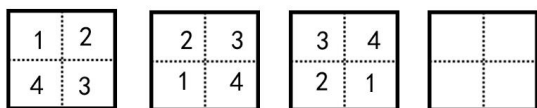
## 暑期气质专项第九练

中国文学博大精深，下列这些文学知识中错误的是（ ）

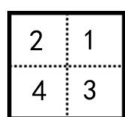
- A 岁寒三友中“三友”指的是松、竹、梅  
 B 古代科考三元中“三元”指的是乡试、会试、殿试  
 C 《春秋三传》指的是《左氏春秋传》、《吕氏春秋》、《春秋谷梁传》  
 D 唐代诗人杜甫的“三吏三别”中的“三吏”是指《新安吏》、《石壕吏》、《潼关吏》

## 2020 年暑期二年级第八练解析

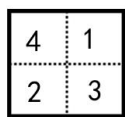
1. 请根据图形变化的规律，画出下一个图形。（ ）



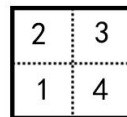
A



B



C



D

答案：A


解析：考点：图形找规律：平移

本题考查图形找规律中的平移，据观察题目，这四个图形一起看较麻烦，可以分开看，先看 1 号，第一个图在左上角，第二个图在左下角，第三个在右下角，通过前 3 幅图，可知 1 号在逆时针平移，所以第 4 幅图 1 号应该在右上角，其他的 2、3、4 也是逆时针平移，答案选 A。

2. 根据下列图形的排列规律，画出空白处的图案。（ ）



A



B



C



D

答案：A

解析：考点：图形找规律：对称、平移

根据第 1 组的图形，我们可以观察出黄色三角形对应黄色三角形，蓝色圆形对应蓝色圆形，红色正方形对应红色正方形，这个符合图形找规律中的对称，那么我们在做题的时候，可以只观察我们的左边图形就可以，我们观察第 2 组图形可以发现，红色正方形移动到了黄色三角形后面，符合平移的情况，由此我们可以观察出第 3 幅图，经过平移最开始的图形应该是黄色三角形，后面是红色正方形，蓝色圆形结合，然后根据对称把另一半补全，因此答案是 A。

### 暑期气质专项第九练解析

中国文学博大精深，下列这些文学知识中错误的是（ ）

- A 岁寒三友中“三友”指的是松、竹、梅
- B 古代科考三元中“三元”指的是乡试、会试、殿试
- C 《春秋三传》指的是《左氏春秋传》、《吕氏春秋》、《春秋谷梁传》
- D 唐代诗人杜甫的“三吏三别”中的“三吏”是指《新安吏》、《石壕吏》、《潼关吏》

解析：《春秋》三传指的是《左氏春秋传》、《春秋公羊传》、《春秋谷梁传》。《吕氏春秋》是战国末期秦相吕不韦组织门客编写的道家著作，此书以儒家学说为主干，以道家理论为基础，以名、法、墨、农、兵、阴阳家思想学说为素材，熔诸子百家学说为一炉，闪烁着博大精深的智慧之光。故答案选 C。