









数学（人教版）二年级下册 第七单元测试卷

一、送小动物回家。

			
$6000 - 2000 =$	$1800 - 900 =$	$250 - 40 =$	$600 + 8000 =$
$90 + 300 =$	$2000 + 6000 =$	$900 + 600 =$	$250 + 300 =$
$850 - 200 =$	$1500 + 300 =$	$100 + 200 =$	$10000 - 6000 =$
$40 + 200 =$	$40 + 90 =$	$800 + 900 =$	$170 - 90 =$
			

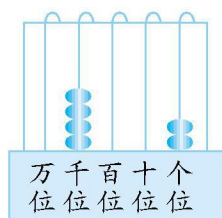
二、填空题。

- 7 个百是();4 个千和 8 个十合起来是();15 个十是()。
- 5304 里面有()个千、()个百和()个一;6007 里面有()个千和()个一;7400 中的 4 表示()个()。
- 写出与下面各数相邻的两个数。

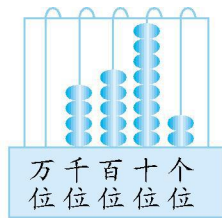
<input style="width: 40px; height: 30px;" type="text"/> 8240 <input style="width: 40px; height: 30px;" type="text"/>	<input style="width: 40px; height: 30px;" type="text"/> 6000 <input style="width: 40px; height: 30px;" type="text"/>	<input style="width: 40px; height: 30px;" type="text"/> 919 <input style="width: 40px; height: 30px;" type="text"/>
--	--	---

- 有一个四位数,从右边数第二位是 5,第四位是 9,其余各位都是 0,这个数是()。

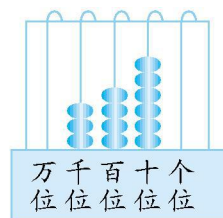
三、看图读数和写数。



写作: ()
读作: ()



写作: ()
读作: ()



写作: ()
读作: ()

四、在 \bigcirc 里填上 “>” “<” 或 “=”。

5098 \bigcirc 5908

594 \bigcirc 600

5040 \bigcirc 4800

7900-900 \bigcirc 8340

400+600 \bigcirc 10000

40+900 \bigcirc 1000-400

五、在 \square 里填上合适的数。

600 + \square = 1400

4500 - \square = 4300

\square - 70 = 80

700 + \square = 4700

1000 - \square = 300

\square + 500 = 6600

六、解决问题。

1.



700元



900元

(1) 买一个柜子和一台吸尘器一共要多少钱?

(2) 一个柜子比一台吸尘器便宜多少钱?

2.



400元



4000元



5300元



(1) 最多花去多少钱?

(2) 最少花去多少钱?

3. “青青果山” 种植了两种果树,其中桃树有 600 棵。



我们的棵数
比桃树多得多。

(1) 苹果树可能有多少棵?(正确的在方格中画“ ”)

2000 棵	630 棵	500 棵

(2) 利用(1)题的结果,求苹果树比桃树多多少棵。

参考答案

一、240 650 390 4000 130 1800 8000 900 1700 300 1500 210 80 4000 550 8600

二、1.700 4080 150

2.5 3 4 6 7 4 百

3.8239 8241 5999 6001 918 920

4.9050

三、4002 四千零二 4582 四千五百八十二

3460 三千四百六十

四、< < > < < >

五、800 200 150 4000 700 6100

六、1. (1) $700+900=1600$ (元) (2) $900-700=200$ (元)

2. (1) $5300+4000=9300$ (元)

(2) $400+4000=4400$ (元)

3. (1)在 2000 棵下面画 “ ”。

(2) $2000-600=1400$ (棵)