

数学（人教版）二年级下册 第九单元测试卷

一、填空题。

1. 用 5、7、9 三张数字卡片,能摆成()个不同的两位数,它们分别是()。

2. 用 3、0、6 这三张数字卡片,能摆成()个不同的三位数,分别是()。

3. 猜年龄。



年龄最小的是(),年龄最大的是()。

4. 小红住在小丽楼上,小丽住在小敏楼上。住在最上面的是(),住在最下面的是()。

二、连一连。

$57 \div 8$

$64 \div 7$

$37 \div 5$

$23 \div 7$

$55 \div 6$



三、用竖式计算。

$45 \div 6 =$

$28 \div 4 =$

$56 \div 9 =$

$34 \div 6 =$


$72 \div 8 =$


$18 \div 3 =$


$60 \div 8 =$


$53 \div 7 =$


四、卡片上最大能填几？


 $\times 5 < 46$


 $\times 8 < 50$


 $\times 4 < 30$


 $\times 4 < 32$


 $\times 7 < 25$


 $\times 6 < 40$

五、填数字。

1. 把 2、3、6、7、8、9、11 和 15 这八个数字填在下面的方框里,使它们正好组成四个算式。

	-		=	
-				+
=				=
	+		=	

2. 在方框里填上 1~9 使算式成立,每个算式中的数字不能重复。

$$\begin{array}{r} 27 \\ + 5 \square \\ \hline 81 \end{array}$$

$$\begin{array}{r} 4 \square \\ + \square \square \\ \hline 62 \end{array}$$

$$\begin{array}{r} \square \square \\ - \square 8 \\ \hline 54 \end{array}$$

$$\begin{array}{r} \square 4 \\ - 1 \square \\ \hline 46 \end{array}$$

六、解决问题。

1. 李叔叔把红、白、蓝各一个气球送给 3 位小朋友。根据下面的对话,你能猜出他们分到的各是什么颜色的气球吗？



2. 青青、云云、丫丫和美美一起排队上车。



请把她们的名字按从前往后的顺序写下来。

3. 大灰、二灰和三灰三只松鼠进行跳远比赛。大灰说：“我跳的不是最远的,但比二灰跳得远”。

请你说一说,谁跳得最远,谁跳得最近。

4. 在下面的方格中,每行、每列都有 1~4 这四个数,并且每个数在每行、每列都只出现一次。B、

C 各是几?

		1	
	3	A	1
	C	4	2
		B	

参考答案

一、1.6 57、75、79、97、59、95

2.4 306、360、603、630

3.小冰 小华 4.小红 小敏

二、余数分别是1、1、2、2、1。 连线略

三、7.....3 7 6.....2 5.....4 9 6 7.....4

7.....4

四、9 6 7 7 3 6

五、1. $15-7=8$ $8+3=11$ $9+2=11$ $15-6=9$ (或 $11-2=9$ $9+6=15$ $8+7=15$ $11-3=8$)

$$\begin{array}{r} 27 \\ +54 \\ \hline 81 \end{array} \quad \begin{array}{r} 47 \\ +15 \\ \hline 62 \end{array} \quad \text{或} \quad \begin{array}{r} 45 \\ +17 \\ \hline 62 \end{array} \quad \begin{array}{r} 92 \\ -38 \\ \hline 54 \end{array} \quad \begin{array}{r} 64 \\ -18 \\ \hline 46 \end{array}$$

六、1.小春:红气球 小宇:蓝气球 小华:白气球

2.丫丫、青青、云云、美美

3.三灰跳得最远,二灰跳得最近。

4.B是3,C是1。